

## PRACOVNÝ LIST – ČAS (ORA)



### 1. ÚLOHA

Predstav si, že si hodinár a máš 12 ručičkových hodiniek. (*Sal o manuš, so sprikerel o ora a hin tut dešuduj ora pro ručički*)

Každé z nich ukazujú iný čas. Zapiš podľa vzoru, koľko je hodín. (*Savore sikaven aver ora. Irin, keci ora dikhes andro čitre*)



jedna hodina

\_\_\_\_\_

\_\_\_\_\_

\_\_\_\_\_

\_\_\_\_\_

\_\_\_\_\_



\_\_\_\_\_

\_\_\_\_\_

\_\_\_\_\_

\_\_\_\_\_

\_\_\_\_\_

\_\_\_\_\_

Modrou vyfarbi hodinky, ktoré ukazujú párny počet hodín.

Zelenou vyfarbi hodinky, ktoré ukazujú nepárny počet hodín.

Červenou zakrúžkuj hodinky, ktoré ukazujú poľnoc.



### 2. ÚLOHA

Napiš, aký digitálny čas ukazujú hodinky z 1. úlohy. (*Irin, savi digitálno ora sikaven o ora andre peršo keriben/úloha*)

Zapiš podľa vzoru. (*Irin pal o vzoros*)



13 : 00

\_\_\_\_\_

\_\_\_\_\_

\_\_\_\_\_

\_\_\_\_\_

\_\_\_\_\_



\_\_\_\_\_

\_\_\_\_\_

\_\_\_\_\_

\_\_\_\_\_

\_\_\_\_\_

\_\_\_\_\_

Žltou vyfarbi hodinky, ktoré ukazujú 3 hodiny.

Hnedou vyfarbi hodinky, ktoré ukazujú 4 hodiny.

Fialovou vyfarbi hodinky, ktoré ukazujú 7 hodín.




Koľko minút je rozdiel medzi časom na žltých a hnedých hodinkách? \_\_\_\_\_

\_\_\_\_\_

 Koľko minút je rozdiel medzi časom na žltých a fialových hodinkách? \_\_\_\_\_

\_\_\_\_\_

 Koľko minút je rozdiel medzi časom na hnedých a fialových hodinkách? \_\_\_\_\_

\_\_\_\_\_

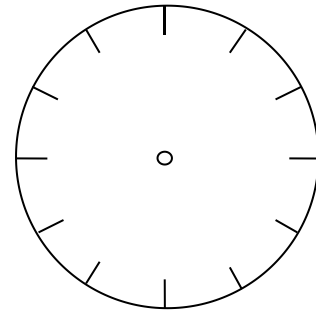
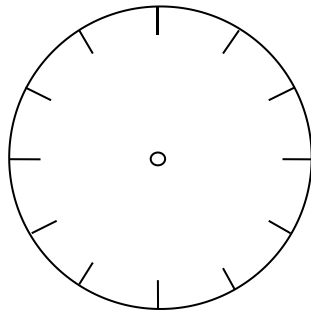
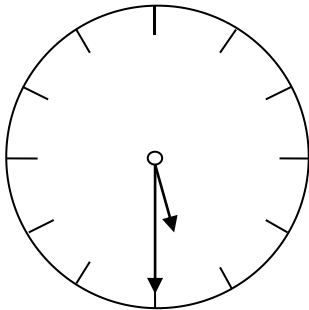
### 3. ÚLOHA



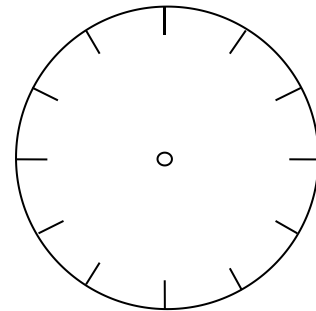
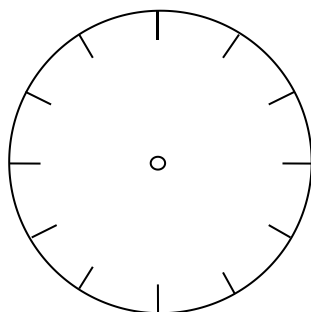
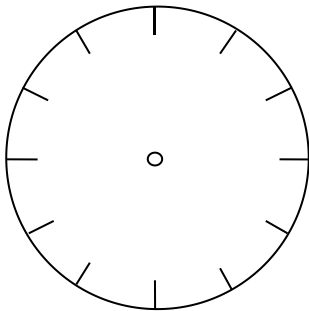
Zapíš podľa vzoru, aký digitálny čas ukazujú hodinky. (*Irin palo vzeros, savi digitálno ora sikaven o ora*)

Nakresli malú a veľkú ručičku do prázdnych hodínok. (*Čitrin bari the cikni ručička andre ora*)

Pol šiestej ráno 5 : 30      Štvrt' na štyri poobede \_\_\_\_\_      Trištvrt' na dvanásť na obed \_\_\_\_\_



Pol desiatej doobeda \_\_\_\_\_      Štvrt' na osem večer \_\_\_\_\_      Trištvrt' na jedenásť v noci \_\_\_\_\_



### 4. ÚLOHA



Je pol štvrtej poobede. (*Hin jepaš palo štar ora*)

O piatej ti príde návšteva do hodinárstva. (*Palepanč ora tuke avela pre navštiva ko manuš, so sprikerel o ora*)

Koľko minút ti ešte ostáva do jej príchodu? (*Keci minut tuke ačhon andre lakero avelipen ?*)

Zapíš. (*Iirn*)

\_\_\_\_\_




## 5. ÚLOHA

Napíš, aký digitálny čas ukazujú ručičkové hodinky, ak *(Irin, savo digitálni ora tuke sikaven o ručički, sar :)*

 malá ručička sa prekrýva s veľkou ručičkou *(cikni ručička hini andre bari ručika)*

\_\_\_\_\_

 malá ručička s veľkou ručičkou rozdeľujú hodinky na dve polovice *(cikni ručička la bari ručičkaha rozthovel ora pre jepaš)* \_\_\_\_\_